

Opgave 2 – Wereld: Bevolking en economische groei in India en Groot-Brittannië

Bij deze opgave horen de bronnen 3 en 4.

Gebruik bron 3.

India en Groot-Brittannië hebben een leeftijdsopbouw die kenmerkend is voor de positie die deze landen in het wereldsysteem innemen.

- 2p **5** Geef voor beide landen aan welke positie ze tegenwoordig in het wereldsysteem innemen.

Onderbouw je antwoorden met een gegeven uit bron 3.

Gebruik de bronnen 3 en 4.

Tussen 1970 en 2020 daalde de demografische druk in India. Na 2050 zal de demografische druk weer gaan stijgen.

- 2p **6** Geef de oorzaak van
- de dalende demografische druk tussen 1970 en 2020;
 - de stijgende demografische druk na 2050.

Gebruik de bronnen 3 en 4.

De toekomstige bevolkingsontwikkeling in Groot-Brittannië kan tot economische problemen leiden. De historische band tussen Groot-Brittannië en India kan bijdragen aan het oplossen van deze problemen.

- 2p **7** Beredeneer dat de historische band tussen Groot-Brittannië en India kan bijdragen aan het oplossen van deze problemen.

De leeftijdsopbouw van India is de komende decennia gunstig om tot verdere economische ontwikkeling te komen. De vraag is of dat voldoende is om economisch voorspoedige tijden tegemoet te gaan. Stelling: India heeft een gunstige uitgangspositie voor economisch voorspoedige tijden.

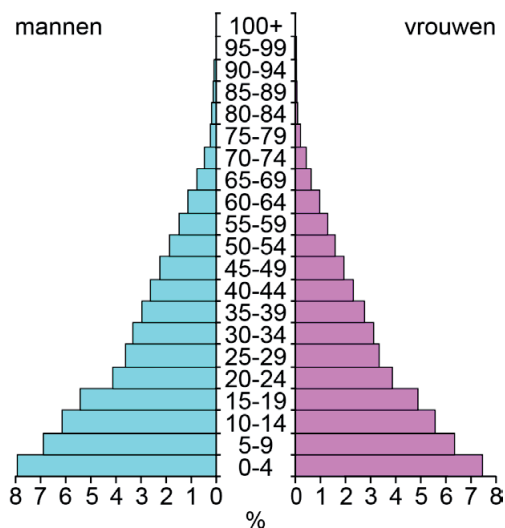
- 2p **8** Ben jij het eens of oneens met deze stelling?
Geef twee argumenten voor je keuze.
Laat demografische argumenten buiten beschouwing.

Opgave 2 – Wereld: Bevolking en economische groei in India en Groot-Brittannië

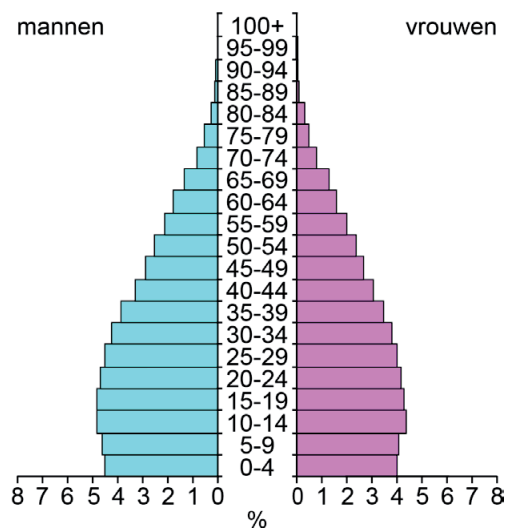
bron 3

Bevolkingsdiagrammen van India en Groot-Brittannië

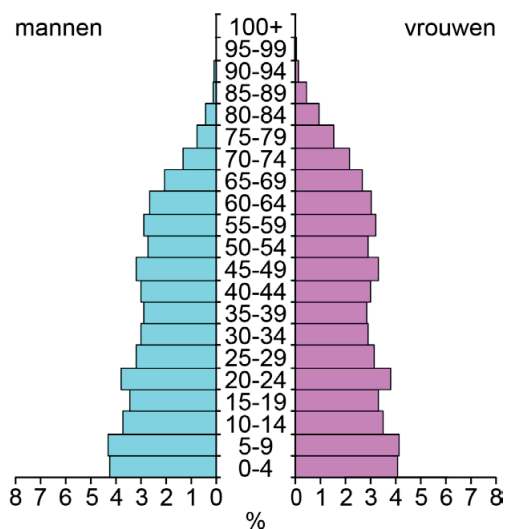
India 1970



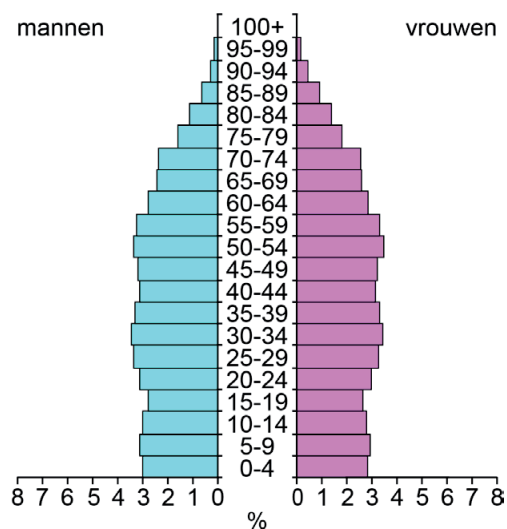
India 2022



Groot-Brittannië 1970



Groot-Brittannië 2022



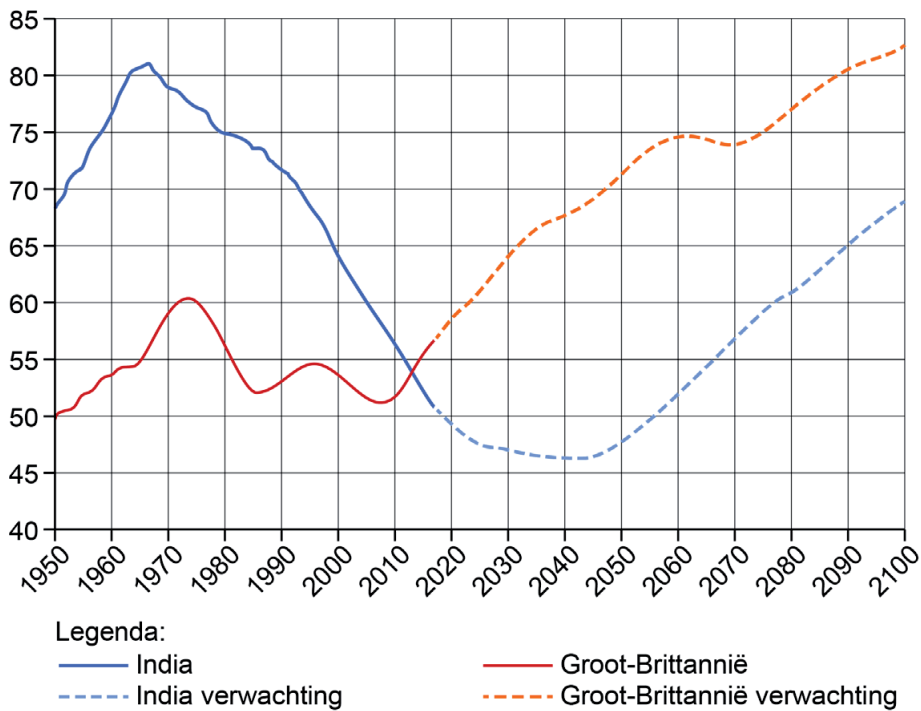
bron 4

Demografische druk en economische ontwikkeling

Een lage demografische druk heeft een positief effect op de werkgelegenheid en het inkomen van een land of regio. Een verschuiving in de leeftijdsopbouw kan de economische ontwikkeling beïnvloeden.

De leeftijd van 15 tot en met 65 jaar is de productieve leeftijd. Kinderen onder de 15 jaar en de groep mensen ouder dan 65 jaar vallen onder de niet-productieve leeftijd.

De demografisch druk in Groot-Brittannië en India tussen 1950 en 2100 (verwachting)



Bronvermelding

Een opsomming van de in dit examen gebruikte bronnen, zoals teksten en afbeeldingen, is te vinden in het bij dit examen behorende correctievoorschrift.